

SUMMATIVE ASSESSMENT – 2, DECEMBER 2015

SOCIAL STUDIES, PAPER – II

(Telugu Medium)

Class : IX

(Max. Marks - 40)

Time: 2.45 Hrs

PART – A
(Marks – 30)

సూచనలు:

1. ప్రశ్నాపత్రం చదువుకోవడానికి 15 నిమిషాలు, జవాబులు రాయడానికి 2.30 గంటలు కేటాయించబడింది.
2. Part – A ప్రశ్నలకు జవాబు పత్రంలో జవాబులు రాయాలి.
3. Part – A ప్రశ్నాపత్రాన్ని విద్యార్థులు తమవెంట తీసుకెళ్ళవచ్చు.
4. Map మరియు Part – B (బిట్ పేపర్) ను జవాబు పత్రానికి జతచేసి ఇన్విజిటేటర్ కు ఇవ్వాలి.

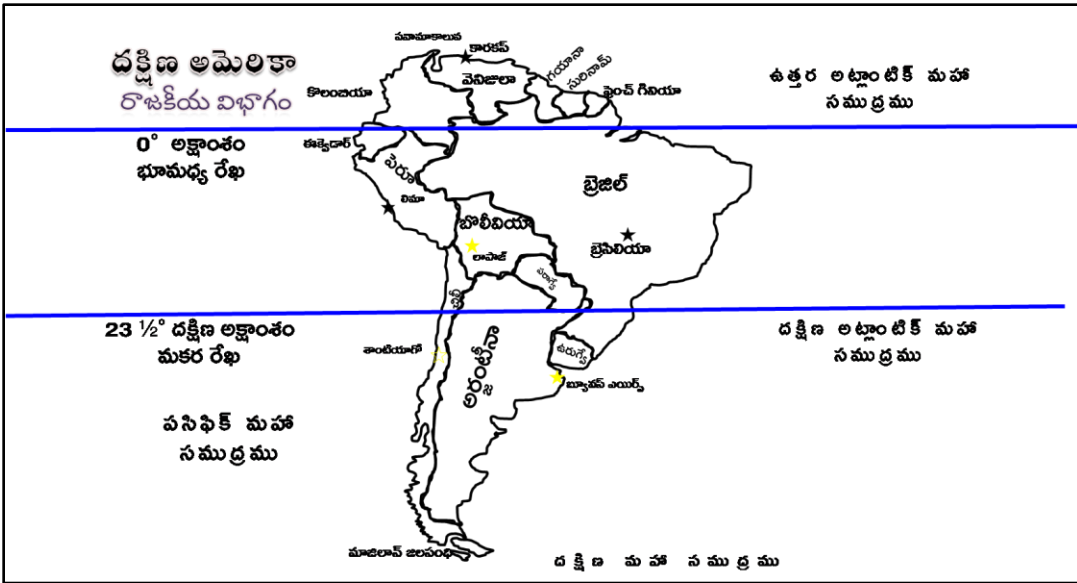
Section – I (4 Marks)

a. క్రింది నాలుగు ప్రశ్నలకు ఒకటి లేదా రెండు వాక్యాలలో సమాధానాలు రాయండి.

4 X 1 = 4 Marks

b. ప్రతి ప్రశ్నకు ఒక మార్కు.

1. జాతి వివక్షత అనగానేమి?
2. నల్లమందు యుద్ధాల రెండు ఫలితాలను రాయండి.
3. ఫ్రెంచి విప్లవంలో మహిళలు నిర్వహించిన పాత్రను ఎలా అర్థంచేసుకున్నావు?
4. క్రింద ఇవ్వబడిన దక్షిణ అమెరికా పటాన్ని పరిశీలించి ప్రశ్నకు జవాబు రాయండి.
ప్రశ్న: మకరరేఖ ఏ ఏ దేశాల గుండా పోతుందో రాయండి.



Section - II (10 Marks)

5 X 2 = 10 Marks

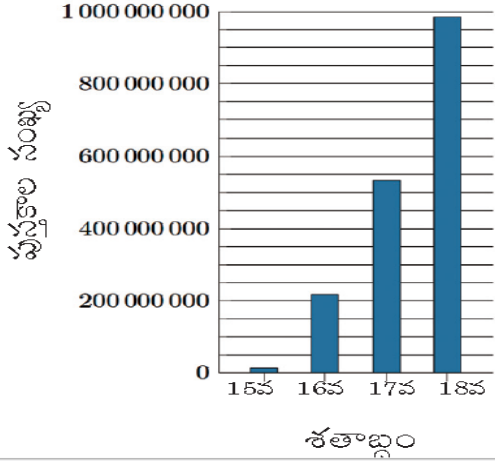
a. క్రింది ఐదు ప్రశ్నలకు సమాధానాలు రాయండి.

b. ప్రతి ప్రశ్నకు రెండు మార్కులు

5. పారిశ్రామిక విప్లవ సమయంలో జరిగిన ఆవిష్కరణల ప్రత్యేకత ఏమిటి?
6. “ప్రాతినిధ్యం లేకుండా ఓర్పులు లేవు” అన్న నినదాన్ని అమెరికా వలస రాష్ట్రాలు లేవనెత్తాయి. ఎందుకు?
7. పెట్టుబడిదారీ విధానం, సామ్యవాదం భావనల మధ్య గల తేడాలు ఏవి?
8. “స్వేచ్ఛ, సమానతం, సౌభ్రాతృత్వం” భావనలను ప్రతిబంజించేలా ఒక పేజీలో గోడపత్రిక తయారు చేయండి.

9. క్రింది గ్రాఫ్ ను పరిశీలించి దిగువ ప్రశ్నలకు జవాబు రాయండి.

1450-1800 మధ్య కాలంలో
యూరప్ లో ప్రచురితమైన పుస్తకాలు



- A. ఏ శతాబ్దంలో పుస్తక ప్రచురణ శాతం ఎక్కువగా ఉంది?
B. పుస్తకాల ప్రచురణ శాతం పెరుగుదలకు కారణం ఏమై ఉండవచ్చు.

Section - III

(16 Marks)

- 1) క్రింది నాలుగు ప్రశ్నలకు సమాధానాలు రాయండి. ఈ ప్రశ్నలకు అంతర్గత అవకాశం (Internal Choice) కలదు.
2) ప్రతి ప్రశ్నకు నాలుగు మార్కులు. **4 X 4 = 16 Marks**

10. ఈ క్రింది పేరాను చదివి ప్రశ్నకు సమాధానం రాయండి.

“ఇతర దేశాల ప్రజలు గొప్ప కళాకారుల చిత్రకళ, శిల్పాలు భవనాలు చూడాలంటే ఇటలీ వెళ్ళాల్సివచ్చేది. అయితే రొసిన వాటి విషయానికొస్తే ఇటలీ రొసినవి ఇతర దేశాలకు వెళ్ళాయి. ముద్రణ, సాంకేతిక విజ్ఞానం పై పట్టు సాధించటం 16వ శతాబ్దపు మహా విప్లవం.” – 16 వ శతాబ్దపు మహా విప్లవం గురించి వ్యాఖ్యానించండి.

(లేదా)

“పారిశ్రామికీకరణ వల్ల కళాకారులు, మేధావులు కూడా తీవ్ర ఆందోళనకు గురయ్యారు.” – పారిశ్రామిక విప్లవం వల్ల జరిగిన మార్పులపై వ్యాఖ్యానించండి.

11. మీరు తెలుసుకున్న విప్లవాల గురించిన సమాచారాన్ని క్రింది పట్టికలో నింపండి.

S. No.	విప్లవం పేరు	జరిగిన సంవత్సరం	కారణం / ఫలితం
1			
2			
3			

(లేదా)

లాటిన్ అమెరికాలోని వలస పాలిత ప్రాంతాల దిగువ ప్రజల సమస్యల జాబితా తయారుచేయండి.

S. No.	ప్రజలు	వారి సమస్యలు
1	హసియండాల్ యజమానులు	
2	స్పానిష్ రైతులు	
3	స్థానిక అమెరికన్లు	
4	అఫ్రికా బానిసలు	

12. ఈ కాలంలో కార్మికులు ఎదుర్కొంటున్న సమస్యలను, వాటికి పరిష్కార మార్గాలను సూచించండి.

(లేదా)

ముద్రింపబడిన పుస్తకాలు మన జీవితాలలో ఎలాంటి పాత్రను పోషిస్తున్నాయో వివరించండి.

13. మీకు ఇవ్వబడిన ప్రపంచ పటంలో క్రింది వాటిని గుర్తించండి.

- A. 1. సాంస్కృతిక పునరుజ్జీవనం ప్రారంభమైన దేశం 2. హిందూ మహా సముద్రము 3. ఫ్రాన్స్ 4. బిలీ

(లేదా)

- B. 1. పారిశ్రామిక విప్లవం ప్రారంభమైన దేశం 2. నల్ల సముద్రము 3. గుడ్ హోప్ అగ్రము 4. చైనా

SUMMATIVE ASSESSMENT – 3, MARCH 2016

SOCIAL STUDIES, PAPER – II

Exam. No:

Q.No. 13

Marks:

THE WORLD



SUMMATIVE ASSESSMENT – 2, December 2015

SOCIAL STUDIES, PAPER – II

(Telugu Medium)

Class : IX

Time: 2.45 Hrs

PART – B
(Marks – 10)

Exam. No:

సామర్థ్యాలు	విషయావగాహన	ఇ.చ.వ్యా.	స.నై.	స.ప్ర.ప్ర.	ప.నై.	ప్ర.సు.	Total
ప్రశ్న సం.	1,2,5,6,7 & Part-B (14-29)	10	8,11	12	4,13 & Part-B (32-33)	3,9 & Part-B (30-31)	13 & Part-B (20)
మార్కులు							
గ్రేడు							

సూచనలు

A. సరైన జవాబును బ్రాకెట్టు నందు గుర్తించండి

20 x ½ = 10 మార్కులు

B. ప్రతి ప్రశ్నకు ½ మార్కు.

C. కొట్టివేతలు, దిద్దడం పరిగణనలోనికి తీసుకోబడవు.

14. “సోషల్ కాంటాక్ట్” గ్రంథ రచయిత ()
A) ఎరాస్మస్ B) వోల్టేర్
C) డిడిరాట్ D) రూసో
15. ఈ క్రింది వానిలో సరికాని జతను గుర్తించండి ()
A) జేమ్స్ వాట్ – ఆవిరియంత్రం B) జాన్ మెక్ డమ్ – రోడ్డు
C) సీమెన్స్ - డైనమో D) స్టీఫెన్ సన్ - మరమగ్గం
16. ఈ క్రిందివానిలో మార్టిన్ లూథర్ కు సంబంధంలేని అంశం ()
A) 95 సిద్ధాంతాలు B) దేవునితో సంబంధానికి మతగురువు అవసరం లేదు
C) ప్రొటెస్టంట్ ఉద్యమ ప్రారంభకుడు D) సాసైటీ ఆఫ్ జీసస్ స్థాపకుడు
17. ఈ క్రింది వానిలో సార్వజనీన ఓటుహక్కును సూచించు పదం ()
A) ఎల్లే B) జోవ్వెరిన్
C) సఫ్రేజ్ D) సెర్స్
18. జతపరచండి ()
1. బాల్య వివాహాల నిషేధ చట్టం a. 1961
2. వరకట్న నిషేధ చట్టం b. 2005
3. గృహ హింస నుండి మహిళల రక్షణ చట్టం c. 2006
A) 1 - a, 2 - b, 3 - c B) 1 - c, 2 - b, 3 - a
C) 1 - c, 2 - a, 3 - b D) 1 - b, 2 - a, 3 - c
19. ఎవరి నాయకత్వంలో బిలి, పెరూ, అర్జంటీనాలు స్వాతంత్ర్యం పొందాయి ()
A) సైమన్ బోలివర్ B) శాన్ మార్టిన్
C) చేగువేరా D) జేమ్స్ మన్రో
20. ఇంగ్లాండులో “లాంగ్ పార్లమెంటు” పరిపాలనా కాలం ()
A) 1640-60 B) 1620-40
C) 1625-45 D) 1610-30
21. ప్రకృతి వనరులు, ఆస్తులు వ్యక్తుల కింద వారి నియంత్రణలో కాకుండా ప్రజల ఆధీనంలో ఉండాలనే సిద్ధాంతం ()
ఎ) సామ్యవాదం బి) ప్రజాస్వామ్యం సి) పెట్టుబడిదారీ విధానం డి) ఉదారవాదం
22. భౌగోళిక అన్వేషణలో _____ మరియు _____ దేశాలకు చెందిన వారు ముఖ్యమైన పాత్ర పోషించారు. ()
A) పోర్చుగల్, ఇంగ్లాండ్ B) స్పెయిన్, ఇంగ్లాండ్
C) పోర్చుగల్, స్పెయిన్ D) స్పెయిన్, ఫ్రాన్స్

23. తప్పుగా ఉన్నదానిని గుర్తించండి 1. మధ్యప్రదేశ్ - ములియ ()

2. ఆంధ్ర ప్రదేశ్ - కోయ

3. ఒడిషా - సవర

4. జార్ఖండ్ - గోండ్

A) 1

B) 3

C) 4

D) 2

24. రెండు వాక్యాలను చదివి సత్యమా లేక అసత్యమా గుర్తించండి.

a. ప్లాటో, థామస్ మూర్ మేధావులు సామ్యవాద భావనలను వ్యక్తపరిచారు. ()

b. ప్రెంచి విప్లవం స్వేచ్ఛ, సమానతం, సామ్రాజ్యతం అన్న ఆదర్శాలను సాధించలేదని బాబెస్, ఇతర తీవ్రవాదులు భావించారు.

A. a, b రెండూ సత్యాలు

B. a సత్యము, b అసత్యము

C. a అసత్యము, b సత్యము

D. a, b రెండూ అసత్యాలు

25. ప్రపంచంలో కెల్లా అతి పెద్ద ఆయుధ కర్మాగారాన్ని స్థాపించిన కుటుంబం ()

A) జెన్ని

B) క్రుప్

C) స్టిఫెన్సన్

D) జోన్నేవాల

26. ముద్రణ యంత్రాన్ని కనిపెట్టినదెవరు? ()

A) లియోనార్డ్

B) జోహాన్స్ గూటేన్ బర్గ్

C) వాస్కోడిగామా

D) గెరీలియో

27. 1917 లో కమ్యూనిస్టు విప్లవం ఏ దేశంలో సంభవించింది? ()

A) రష్యా

B) అమెరికా

C) జపాన్

D) చైనా

28. యంగ్ ఇటలీ స్థాపకుడు ()

A) నెపోలియన్

B) బిస్మార్క్

C) ముస్సోలిని

D) మాజిని

29. వెస్టిండీస్ దీవులను కనుగొన్న నావికుడు ()

A) కొలంబస్

B) అమెరిగో వెస్ పుస్సి

C) మాజిలాన్

D) వాస్కోడిగామా

30. ప్రపంచ కర్మాగారంగా ప్రసిద్ధి చెందిన దేశం ()

A. రష్యా

B. చైనా

C. జపాన్

D. ఇంగ్లాండ్

31. భారతదేశానికి సముద్రమార్గాన్ని కనుగొన్నది ()

ఎ) వాస్కోడగామా బి) కొలంబస్ సి) మాజిలాన్

డి) అమెరిగో

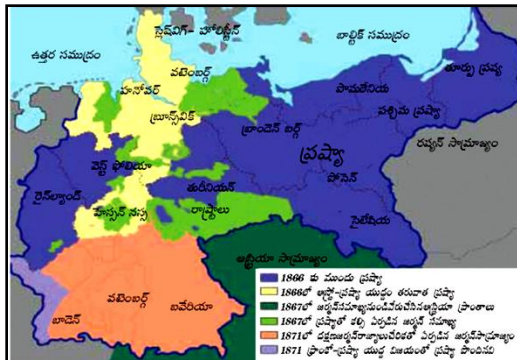
32. ప్రక్క పటం ఏ దేశానికి సంబంధించినది?

A) జర్మనీ ఏకీకరణ

B) ఇటలీ ఏకీకరణ

C) స్పెయిన్ విప్లవం

D) ఆస్ట్రీయా తిరుగుబాటు




33. ప్రక్కన ఇవ్వబడిన చిత్రం దేనికి సంబంధించినది

A) పాలిశ్రామిక విప్లవం

B) లుద్దిజం

C) ఫ్రాన్స్ విప్లవం

D) 1857 తిరుగుబాటు



SUMMATIVE ASSESSMENT – 2, DECEMBER 2015

SOCIAL STUDIES, PAPER – II

(English Medium)

Class : IX

(Max. Marks - 40)

Time: 2.45 Hrs

PART – A

(Marks – 30)

Instructions:

1. 15 minutes allocated to read the question paper and 2.30 hours to write answers.
2. Part – A must be answered in a separate answer sheet.
3. Students can take Part – A question paper with them.
4. Map and Part – B (bit paper) should tag to the answer sheet and give them to the invigilator.

Section – I (4 Marks)

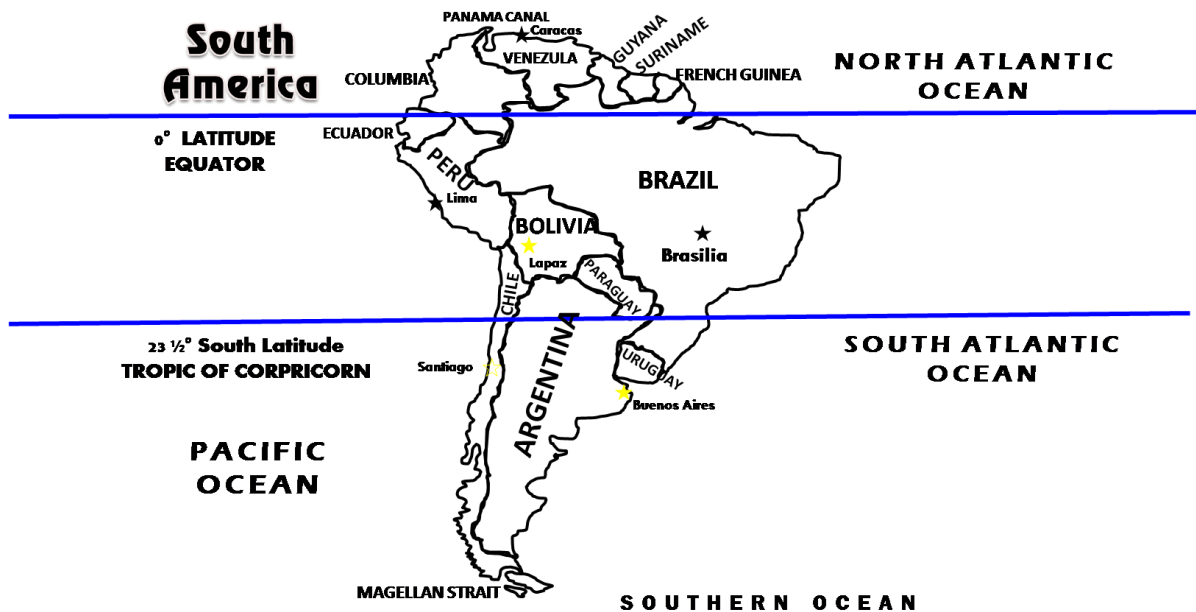
4 X 1 = 4 Marks

a) Write the answers to the Four Questions in one or two sentences.

b) Each question carries one mark

1. What is apartheid?
2. Write any two results of Opium Wars.
3. How can you understand the role of women in French Revolution?
4. Look at the South America map and answer the following question.

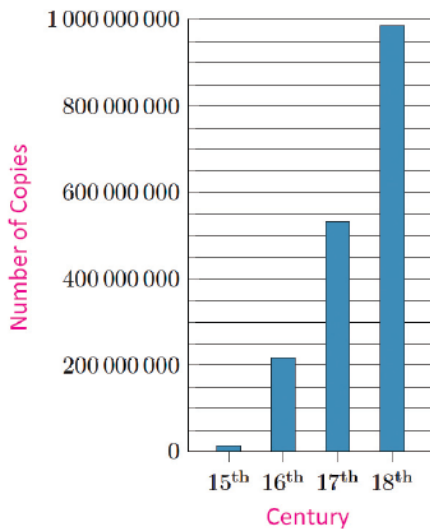
Question: Write the countries which the Tropic of Capricorn pass through



Section - II (10 Marks)**5 X 2 = 10 Marks****a) Write answers to the following five questions.****b) Each question carries Two marks.**

5. Write the importance of the inventions during the Industrial Revolution?
6. Why the American States raised the slogan "No taxation without representation."
7. What are the differences between the concepts of capitalism and socialism.
8. Prepare a poster in one page which reflects the concepts of "freedom, Equality, Fraternity".
9. Take a look at the following graph and answer the following questions.

European Output of Printed
Books ca. 1450–1800*



*without Southeast Europe (Ottoman realm) and Russia

- A. In which century more books were published?
- B. What is the reason to increase in the percentage of book publishing.

Section - III**(16 Marks)****1) Write all the Four Questions. They have internal Choice only.****2) Each question carries four marks.****4 X 4 = 16 Marks**

10. "The people of other countries have to visit Italy to view the buildings, art and painting of the great artists. But the writings moved away other countries. Getting the grip on Printing and technology was the Great Revolution of the 16th century." - Comment about the Great Revolution of the 16th century.

(Or)

"The industrialization of the artists, intellectuals are also concerned." - comment on the changes due to the industrial revolution.

11. Fill the following table having information about the revolutions.

S. No.	Name of the Revolution	Year	Cause / Result
1			
2			
3			

(or)

Fill the table with the grievances of the following people of the Latin American colonies:

S. No.	People	the grievances
1	Haciendas owners	
2	Spanish farmers	
3	Native Americans	
4	African slaves	

12. What are the problems facing by the workers today and indicate the solutions.

(Or)

Describe the role of Printed books which are using in our life.

13. Locate the following in the given World map.

A. 1. The nation where the cultural renaissance started 2. The Indian Ocean 3. France 4. Chile

(Or)

B. 1. The country where the industrial revolution started 2. Black Sea 3. Cape of Good Hope 4. China

SUMMATIVE ASSESSMENT – 2, Dec -2015

SOCIAL STUDIES, PAPER – II

Exam. No:

Q.No. 13

Marks:

THE WORLD



SUMMATIVE ASSESSMENT – 2, December 2015

SOCIAL STUDIES, PAPER – II

(English Medium)

Class : IX

Time: 2.45 Hrs

PART – B (Marks – 10)

Exam. No:

Aca. Stds.	(AS – 1)	(AS – 2)	(AS – 3)	(AS – 4)	(AS – 5)	(AS – 6)	Total
Q. No.	1,2,5,6,7 & Part-B (14–29)	10	8,11	12	4,13 & Part-B (32–33)	3,9 & Part-B (30–31)	13 & Part-B (20)
Marks							
Grade							

Instructions

- I. Identify the correct answer and write in the brackets
- II. Each question carries $\frac{1}{2}$ mark.
- III. Overwriting and corrections should not consider.

20 x $\frac{1}{2}$ = 10 marks

14. "Social Contact" was written by ()
A) Erasmus B) Volter C) Diderot D) Rousseau
15. Which of the following pair is odd one ()
A) James Watt - The steam engine B) John Macadam - roads
C) Siemens - Dynamo D) Stephen Sun - Milling loom
16. Which concept is unrelated to Martin Luther ()
A) 95 theories B) does not need a priest in a relationship with God
C) Founder of the protestant movement D) Founder of the Society of Jesus
17. Which of the following word indicates the right to vote ()
A) Elle B) Jolverine C) suffrage D) Serf
18. Match the following: ()
1. Child Marriage Prohibition Act a. 1961
2. Dowry Prohibition Act b. 2005
3. Protection of Women from Domestic Violence Act c. 2006
A) 1 - a, 2 - b, 3 - c B) 1 - c, 2 - b, 3 - a
C) 1 - c, 2 - a, 3 - b D) 1 - b, 2 - a, 3 - c
19. Under whose leadership, Chile, Peru, Argentina gained independence ()
A) Simon Bolivar B) San Martin C) Che Guevara D) James Monroe
20. Period of "Long Parliament" in England was ()
A) 1640-60 B) 1620-40 C) 1625-45 D) 1610-30
21. The theory of Natural resources, assets owned by the people explained in ()
A) socialism B) democracy C) capitalism D) Liberalism
22. The navigators of _____ and _____ countries played an important part in the geographical explorations. ()
A) Portugal, England B) Spain, England
C) Portugal, Spain D) Spain, France

23. Identify the wrong one. ()

1. Madhya Pradesh - Muria
2. Andhra Pradesh - Koya
3. Odisha - Savara
4. Jharkhand – Ghond

A) 1 B) 3 C) 4 D) 2

24. Read the two sentences and identify truth or false ()

- a. Plato or Thomas Moore expressed socialist ideas.
- b. Babeuf and other radicals complained that the Revolution had failed to fulfil the ideals of liberty, equality, and fraternity.

A. a, b both are truth B. a truth, b false
C. a false, b truth D. a, b both are false

25. The world's biggest arms factory was founded by the family ()

A) Jenny B) Krupp C) Stephenson D) Jonsevala

26. Who invented the printing machine? ()

A) Leonardo B) Johannes Gutenberg C) Vasco da Gama D) Galileo

27. In 1917, the Communist revolution occurred in which country? ()

A) Russia B) America C) Japan D) China

28. Founder of the Young Italy was ()

A) Napoleon B) Bismarck C) Mussolini D) Mazzini

29. The navigator who discovered the islands of the West Indies ()

A) Columbus B) Amerigo Vespucci C) Magellan D) Vasco da Gama

30. Which country is regarded as “factory of the world” ()

A. Russia B. China C. Japan D. England

31. A sea route to India was discovered by ()

A) Vasco da Gama b) Columbus C) Magellan D) Amerigo Vespucci

32. The map is showing ()

- A) The unification of Germany
- B) The unification of Italy
- C) The Spain Revolution
- D) The Austria Coup



33. The image concerns ()

- A) The Industrial Revolution
- B) Luddism
- C) The French Revolution
- D) 1857 Revolt

