

# రాజీవ్ విద్యామిషన్, ఆంధ్రప్రదేశ్

నిర్మాణాత్మక మూల్యాంకనం -4

తరగతి : 6

విషయం : సాంఘిక శాస్త్రము

మార్కులు : 50

విద్యార్థి పేరు : .....రోల్ నెంబర్..... సెక్సన్:.....

పిల్లలభాగస్వామ్యం ప్రతిస్పందనలు -10మా	రాత అంశాలు 10మా	ప్రాజెక్టు పనులు 10 మా	లఘు పరీక్ష 20 మా	మొత్తం మార్కులు 50	గ్రేడు
మార్కులు					
గ్రేడు					

**I. భాగస్వామ్యము - ప్రతిస్పందనలు : (10 మార్కులు)**

(పాఠ్యబోధన సమయములో విద్యార్థి ప్రవర్తన తీరు, ప్రశ్నించు విధానం, మధ్యలో అడిగిన ప్రశ్నలకు సమాధానం చెప్పే విధానం మొదలైనవి)

**II. రాత అంశాలు : (10 మార్కులు)**

(నోట్సులు, మ్యాపులు, ప్రాజెక్టు పనులు, దినచర్చలు మొదలైనవి)

**III. ప్రాజెక్టు పనులు : (10 మార్కులు)** (ఈ ప్రశ్నకు జవాబు లోపల పేజీలో రాయండి)

భాషపుట్టుక, వాడుకను గురించి ఫ్లోచార్టును తయారు చేయండి ? (లేదా) వివిధ ప్రార్థనా పద్ధతుల బొమ్మలు సేకరించి ఒక చిన్న పుస్తకం తయారు చేయండి.

**IV. లఘుపరీక్ష : (20 మార్కులు)**

అ) విషయావగాహన :-

ఎ) ఈ క్రింది ఖాళీలను పూరించండి.

$5 \times 1/2 = 2 \frac{1}{2}$ మా

- 1) మహావీరుడు ప్రచారం చేసిన మతాన్ని ..... అంటారు.
- 2) భారత దేశంలో ..... రాష్ట్రాలున్నాయి.
- 3) వేదాలలో ప్రాచీనమైన వేదం .....
- 4) శివభక్తులైన నాయనార్లు దాదాపు ..... మంది ఉన్నారు.
- 5) "అదికావ్యంగా" పిలువబడే వాల్మీకి సంస్కృతంలో రచించిన గ్రంథం .....

బి) జతపరుచుము

$5 \times 1/2 = 2 \frac{1}{2}$ మా

గ్రూపు - ఎ

గ్రూపు - బి

- |                         |                           |
|-------------------------|---------------------------|
| 1) గౌతమ బుద్ధుడు        | (    ) ఎ) మహావీర్ ప్రవక్త |
| 2) సిక్కిం              | (    ) బి) ఆళ్వార్లు      |
| 3) అదికావ్యం            | (    ) సి) రామాయణం        |
| 4) విష్ణు భక్తులను      | (    ) డి) కాంచన గంగా     |
| 5) "ఇస్లాం" మతస్థాపకుడు | (    ) ఇ) బౌద్ధమతం        |

9) సమాచార సేకరణ :

$5 \times 1 = 5$ మా

మీ ఇంట్లో లేదా పరిసరాలలో ఉండే జెషధ మొక్కలను గుర్తించి వాటి పేర్లు ఉపయోగం రాయండి ?                      లేదా  
మీకు తెలిసిన పది నీతి వాక్యాలు / సామెతలను రాయండి.

బ) పటనైపుణ్యాలు :

5 X 1 = 5మా

ఈ క్రింది పటాలను పరిశీలించి వాటికి సరిపోయే పేర్ల తో వాటిని జతపరచండి.

1) ఎద్దు బొమ్మకలిగిన హారప్పా ముద్ర

2) అమరావతి స్థూపం

3) సారనాథ్ లోని సింహశిఖరం

4) సింధులోయ కాలంనాటి మతపెద్ద / పూజారి

5) నాగార్జునకొండ



ఈ) ప్రశంస/సునితత్వం : (ఈ ప్రశ్నకు ఐవాబు లోపల పేజీలో రాయండి) 5 X 1 = 5మా  
చెట్లకు, సర్పాలకు మనం ఎలా అభినందనలు తెలపవచ్చు ?

# రాజీవ్ విద్యామిషన్, ఆంధ్రప్రదేశ్

నిర్మాణాత్మక మూల్యాంకనం -4

తరగతి : 7

విషయం : సాంఘిక శాస్త్రము

మార్కులు : 50

విద్యార్థి పేరు : .....రోల్ నెంబర్..... సెక్టర్ : .....

పిల్లలభాగస్వామ్యం ప్రతిస్పందనలు -10మా	రాత అంశాలు 10మా	ప్రాజెక్టు పనులు 10 మా	లఘుపరీక్ష 20 మా	మొత్తం మార్కులు 50	గ్రేడు
మార్కులు					
గ్రేడు					

## I. భాగస్వామ్యము - ప్రతిస్పందనలు : (10 మార్కులు)

(పాఠ్యబోధన సమయములో విధ్యార్థి ప్రవర్తన తీరు, ప్రశ్నించు విధానం, నుద్దులతో అడిగిన ప్రశ్నలకు సమాధానం చెప్పే విధానం మొదలైనవి)

## II. రాత అంశాలు : (10 మార్కులు)

(నోట్సులు, మ్యాపులు, ప్రాజెక్టు పనులు, దినచర్యలు మొదలైనవి)

## III. ప్రాజెక్టు పనులు : (10 మార్కులు)

మీ ప్రాంతంలోని ఏదైనా ఒక శాతర గురించి మీ పెద్దలను లేదా కుటుంబ సభ్యులను అడిగి సమాచారాన్ని సేకరించి, ఒక నివేదికను తయారు చేయండి.

అ) విషయావగాహన :-

5 X 1/2 = 2 1/2 మా

ఎ) క్రింది ఖాళీలను పూరించండి

- 1) ప్రస్తుత మన రాష్ట్ర ముఖ్యమంత్రి .....
- 2) ఆంధ్రప్రదేశ్ లో శాసనసభా నియోజకవర్గాల సంఖ్య .....
- 3) 1920 శతాబ్దాల్లో స్వేచ్ఛ, సమానత్వం, ఆర్థికన్యాయం కోసం పోరాడిన సంఘ సంస్కర్తల పేర్లు .....
- 4) తాళ్లపాక అన్నమాచార్యుని బిరుదు .....
- 5) సాధారణంగా రాష్ట్రశాసనసభ ఎన్నికలు ప్రతి ..... సం॥రాలకొకసారి జరుగుతాయి.

బి) జతపరుచుము :-

5 X 1/2 = 2 1/2 మా

- |   |     |  |
|---|-----|--|
| 1) రాష్ట్రగవర్నరును                                 | ( ) | ఎ) పల్నాటి వీర చరిత్ర కథ               |
| 2) ఆంధ్రప్రదేశ్ నీరు, భూమి, చెట్లు రక్షణ చట్టం అమలు | ( ) | బి) రామానుజులు                         |
| 3) డా॥ బి. ఆర్. అంబేద్కర్                           | ( ) | సి) మొట్టమొదటి భారతదేశ న్యాయశాఖ మంత్రి |
| 4) విశిష్టాద్వైత సిద్ధాంతం                          | ( ) | డి) 19-04-2002                         |
| 5) శ్రీనాథుడు                                       | ( ) | ఇ) భారతదేశ రాష్ట్రపతి                  |

క్రింది సమాచారాన్ని పూరించండి :-

- 1) మీ పేరు :
- 2) మీ నియోజక వర్గం పేరు :
- 3) మీ శాసనసభ్యుని పేరు :
- 4) మీ జిల్లాలోని ఏవైన ఇతర మూడు నియోజకవర్గాల పేర్లు
- 5) మీ కుటుంబంలో చివరగా జరిగిన ఎన్నికల్లో ఎవరెవరు ఓటు వేశారు ?

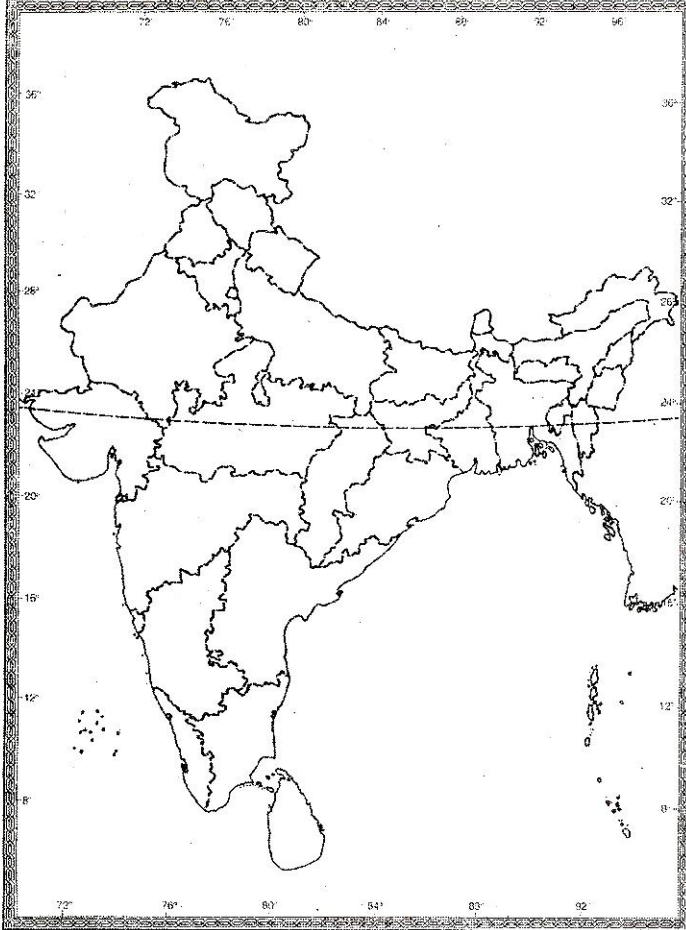
ఇ) పటనైపుణ్యాలు : (భారతదేశం - రాష్ట్రాలు

5 X 1 = 5మా

క్రింది పటంలో క్రింది ప్రాంతాలను గుర్తించండి :

**INDIA - States**

Class :  
Section :



- 1) శంకరులు - కేరళ
- 2) అన్నమయ్య - ఆంధ్రప్రదేశ్
- 3) తుకారాం - మహారాష్ట్ర
- 4) బసవన్న - కర్ణాటక
- 5) చైతన్యమహాప్రభు-బెంగాల్

ఈ) ప్రశంస / సునిశితత్వం : (లోపల పేజీలో జవాబు రాయండి)

5 X 1 = 5మా

వార్షిక కారులను, వారి కీర్తనలను కొన్నింటిని తెలపండి.



# రాజీవ్ విద్యామిషన్, ఆంధ్రప్రదేశ్

నిర్మాణాత్మక మూల్యాంకనం -4

తరగతి : 8

విషయం : సాంఘిక శాస్త్రము

మార్కులు : 50

విద్యార్థి పేరు : ..... రోల్ నెంబర్..... సెక్షన్ : .....

పిల్లలభాగస్వామ్యం ప్రతిస్పందనలు -10మా	రాత అంశాలు 10మా	ప్రాజెక్టు పనులు 10 మా	లఘు పరీక్ష 20 మా	మొత్తం మార్కులు 50	గ్రేడు
మార్కులు					
గ్రేడు					

**I. భాగస్వామ్యము - ప్రతిస్పందనలు : (10 మార్కులు)**

(పాఠ్యబోధన సమయములో విద్యార్థి ప్రవర్తన తీరు, ప్రశ్నించు విధానం, మధ్యలో అడిగిన ప్రశ్నలకు సమాధానం చెప్పే విధానం మొదలైనవి)

**II. రాత అంశాలు : (10 మార్కులు)**

(నోట్సులు, చూపులు, ప్రాజెక్టు పనులు, దినచర్యలు మొదలైనవి)

**III. ప్రాజెక్టు పనులు : (10 మార్కులు)**

వివిధ నాట్యరూపాలను గూర్చి రాయండి. బొమ్మలను సేకరించి అంటించండి.

**IV. లఘుపరీక్ష : (20 మార్కులు)**

అ) విషయావగాహన :-

5 X 1 = 5మా

1) ప్రభుత్వం నుండి చుత్తాన్ని వేరు చేయడాన్ని ..... అంటారు.

2) బుర్రకథ అనేది ..... రాష్ట్రంలో కథచేస్తే కళారూపం.

3) థింసా నాట్యం ..... సముదాయానికి సంబంధించినది.

4) మీకు తెలిసిన రెండు క్రీడల పేర్లు తెలిపండి ?

5) శరీరం, మనసుమధ్య సమాతుల్యానికి క్రీడలు అవసరమని నమ్మినది ఎవరు ?

ఆ) సమాచార సేకరణ :

5 X 1 = 5మా

క్రింది వాటికి సమాచారము సేకరించండి.

ప. నెం.	ఆటలు	క్రీడలు	ఆడ పిల్లలు ఆడే ఆటలు	మగ పిల్లలు ఆడే ఆటలు	మీకు నచ్చిన ఆటలు క్రీడలు ఏవి

ఆంధ్రప్రదేశ్ లో క్రింది వాటిని గుర్తించండి.

- 1) శ్రీకాకుళం 2) చిత్తూరు 3) పన్నానది 4) కృష్ణానది 5) అదిలాబాద్



అ) ప్రశంస / సున్నితత్వం :

5 X 1 = 5మా

కరువు ప్రభావం వల్ల ఏమవుతుందో ఊహించి రాయండి.

# రాజీవ్ విద్యామిషన్, ఆంధ్రప్రదేశ్

నిర్మాణాత్మక మూల్యాంకనం -4

తరగతి : 9

విషయం : సాంఘిక శాస్త్రము

మార్కులు : 50

విద్యార్థి పేరు : ..... రోల్ నెంబర్..... సెక్షన్ : .....

పిల్లభాగస్వామ్యం ప్రతిస్పందనలు -10మా	రాత అంశాలు 10మా	ప్రాజెక్టు పనులు 10 మా	లఘు పరీక్ష 20 మా	మొత్తం మార్కులు 50	గ్రేడు
మార్కులు					
గ్రేడు					

## I. భాగస్వామ్యము - ప్రతిస్పందనలు : (10 మార్కులు)

(పార్వబోధన సమయములో విద్యార్థి ప్రవర్తన తీరు, ప్రశ్నించు విధానం, మధ్యలో అడిగిన ప్రశ్నలకు సమాధానం చెప్పే విధానం మొదలైనవి)

## II. రాత అంశాలు : (10 మార్కులు)

(నోట్లు, మ్యాపులు, ప్రాజెక్టు పనులు, దినచర్యలు మొదలైనవి)

## III. ప్రాజెక్టు పనులు : (10 మార్కులు)

మీ దగ్గర్లోని బ్యాంకును సందర్శించి అప్పలు, డిపాజిట్లు, ఖాతాల రకాలు, ఎ.టి.యం. మరియు క్రెడిట్ కార్డులను గురించి వివరాలు సేకరించండి.

## IV. లఘుపరీక్ష : (20 మార్కులు)

అ) విషయావగాహన :-

5 X 1 = 5మా

- 1) BPO ను విస్తరించండి .....
- 2) ..... డిపాజిట్లను సేకరించి వాటికి వడ్డీని కూడా చెల్లిస్తుంటాయి.
- 3) లబ్ధియొంది ..... దేశ వలస రాజ్యంగా వుండేది.
- 4) బెల్జియం రాజధాని నగరం .....
- 5) ప్రాథమిక హక్కులను రాజ్యాంగంలోని ..... విభాగంలో ఉంచడమైనది.
- 6) వరకట్ట నిషేధచట్టం ..... సం॥లో చేయడమైంది.
- 7) వ్యాపార నిర్వహణ ( ) ఎ) అకౌంటెంట్
- 8) బిల్లులు, ఖాతాలు ( ) బి) బ్యాంక్
- 9) రవాణా ( ) సి) వ్యాపారి
- 10) విత్తకార్యకలాపాలు ( ) డి) డ్రైవర్

ఆ) సమాచార సేకరణ :-

5 X 1 = 5మా

1988 వ సం॥లో మయన్మార్ లో సైనిక పాలనకు వ్యతిరేఖంగా జరిగిన పోరాటాలు క్రూరంగా అణచివేయబడ్డాయి. తరువాత వచ్చిన కొత్త సైనిక కూటమి ఎన్నికలను నిర్వహణకు సిద్ధమైంది. ఈ పరిస్థితుల్లో ఆంగ్లసాన్ సూకి జాతీయ ప్రజాస్వామ్య కూటమి (ఎన్.ఎల్.డి) ద్వారా 1990వ సంవత్సరంలో విజయం సాధించడమైంది. ఈమె నిర్బంధంలో ఉన్నప్పటికీ 80% సీట్లను గెలుపొందడం జరిగింది.

పై పేరాగ్రాపును చదివి క్రింది ప్రశ్నలకు జవాబులు రాయండి.

- 1) ఏ సంవత్సరంలో మయన్మార్ లో పోరాటం జరిగింది ? 2) బర్మాకు కొత్త పేరు ఏమి ?
- 3) 1990వ సంవత్సరంలో ఏ పార్టీ ఎక్కువ మెజారిటీని సాధించింది ?
- 4) ఎన్. ఎల్. డి (NLD) అనగా ఏమి ?
- 5) ఆంగ్లసాన్ సూకి ఎంతశాతం మెజారిటీని పొందింది ?

బ) పటనైపుణ్యాలు :

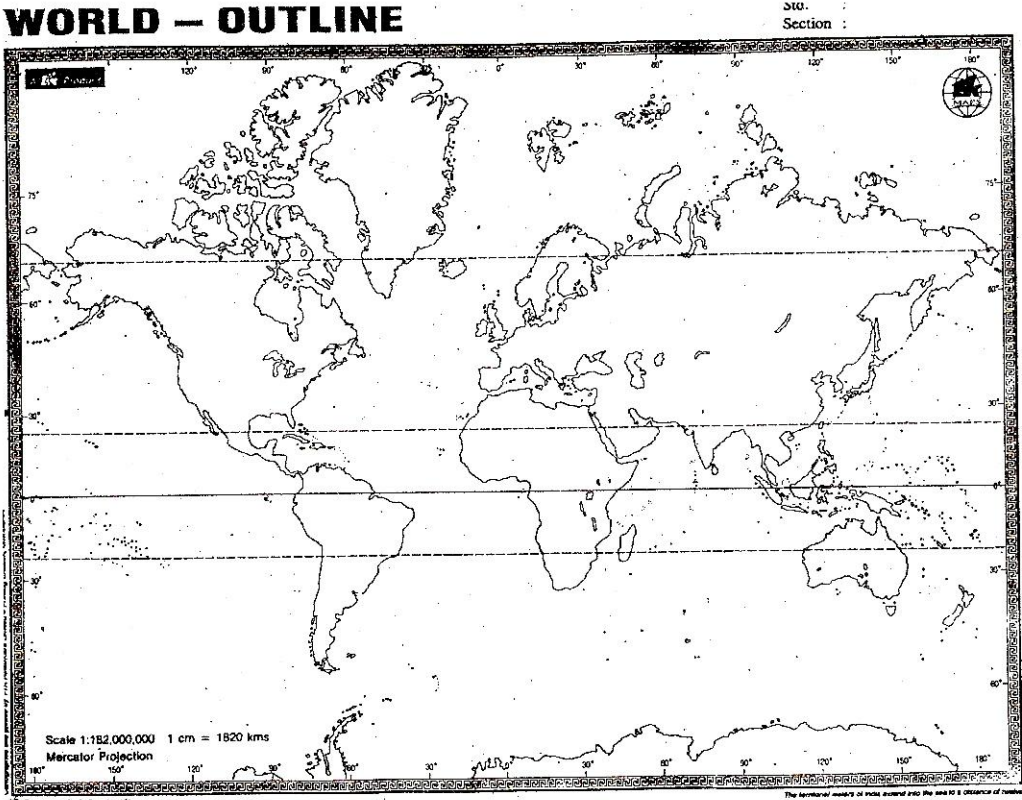
Page No 4-IX-SS

5 X 1 = 5మా

మీకు యిచ్చిన ప్రపంచ పటంలో క్రింది దేశాలను గుర్తించండి.

1) మయన్మార్ 2) బిజియా 3) దక్షిణాఫ్రికా 4) అర్జెంటైనా 5) ఇంగ్లాండ్.

### WORLD – OUTLINE



ఈ ప్రశంస / సున్నితత్వం :-

5 X 1 = 5మా

ప్రజాస్వామ్య దేశంలో ఎన్నికలు చాలా ముఖ్యమైనవి ? ఎలా ?  
వివరించండి?



**Rajiv Vidya Mission (SSA)**  
**FORMATIVE ASSESSMENT - IV**

**Class VI**

**Sub:- Social**

**Marks :50**

**Name of the Pupil:.....Roll No:.....Section:.....**

Participation and Responses 10 M	Written work	Project work 10 Marks	Slip Test 20 Marks	Total Marks obtained (50 M)	Grade
Marks					
Grade					

**I. Participation and Responses:- (10 Marks)**

*Teacher has to award marks by observing the involvement / Participation and responses of the students in the following Teaching Learning processes.*

**II. Written Work (10 Marks)**

*Teacher has to award marks by observing their note books, home work note books, Maps, Project works diaries, textual exercises, Portfolios, Collections /Written discourses to the wall magazine.*

**III. Project Work (10 Marks)**

*Prepare a flow chart on the establishment of languages. (OR)  
Draw pictures of different modes of worship and prepare a small booklet on it for your school library.*

**IV. Slip Test - (20 Marks)**

**A) Concept Understanding :- (5 Marks)**

- 1) The religion spread by Mahavira is known as .....
- 2) There are ..... states in India
- 3) The ..... veda is the oldest one among the four vedas.
- 4) The Nayanars were ..... in number.
- 5) ..... is considered the first Kavya in Sanskrit literature and composed by Valmiki.

**ii) Matching :-**

- |                       |     |                                 |
|-----------------------|-----|---------------------------------|
| 1) Gautama Buddha     | ( ) | a) Prophet Mohammad             |
| 2) Sikkim             | ( ) | b) The Alvars                   |
| 3) First Kavya        | ( ) | c) Ramayana                     |
| 4) Devotees of yishnu | ( ) | d) Kanchenjunga                 |
| 5) Founder of Islam   | ( ) | e) (Great Middle path) Buddhism |

**2) Information Skill :- VI- SS-Page No 4 (5 Marks)**

- 1) Identify the medicinal plants with in the premises of your house/surroundings and prepare a list of the uses of those plants.
- 2) Collect atleast ten sayings, or proverbs from your elders and write them down on a poster and display them in the class.

4)

**Mapping Skills :-**

VI -Class So. IV Page

**(5 Marks)**

Observe the following pictures and write their names :-

1) Harappan Seal

2) Amaravathi stupa

3) Sarnath Lion Capital

4) Priest

5) Nagarjuna Konda



**4) Appreciation /Sencitivity (Answer write inner page 2 or 3)**

**(5Marks)**

How best do you think we can express our thanks to trees and animals like Snakes ?



**Rajiv Vidya Mission (SSA)**  
**FORMATIVE ASSESSMENT - IV**

**Class VII**

**Sub:- Social**

**Marks :50**

**Name of the Pupil:.....Roll No:.....Section:.....**

Participation and Responses 10 M	Written work	Project work 10 Marks	Slip Test 20 Marks	Total Marks obtained (50 M)	Grade
Marks					
Grade					

**I. Participation and Responses:- (10 Marks)**

*Teacher has to award marks by observing the involvement / Participation and responses of the students in the following Teaching Learning processes.*

**II. Written Work (10 Marks)**

*Teacher has to award marks by observing their note books, home work note books, Maps, Project works diaries, textual exercises, Portfolios, Collections /Written discourses to the wall magazine.*

**III. Project Work (10 Marks)**

*Get detailed information from your grand parents about any Jataka of your area. Prepare a report.*

**IV. Slip Test - (20 Marks)**

**A) Concept Understanding :- (5 Marks)**

- 1) The chief Minister of Andhra Pradesh is .....
- 2) There are ..... constituencies in Andhra Pradesh.
- 3) In the 19th & 20th centuries .....  
(names) social reformers fought to create a new social system based on freedom, equality brother hood (names of reformers.)
- 4) Thallapaka Annamacharya's title was .....
- 5) The elections to the state legislative Assembly are held once in ----- years.

**Matching :-**

- | Group A  | Group B  |
|--|--|
| i) A.P. Governor appointed by                              | (     ) a) The Palnati virula Katha              |
| ii) The water, land and trees protection Authority (WALTA) | (     ) b) Ramanuja                              |
| iii) Dr. B.R. Ambedkar                                     | (     ) c) The first union Law Minister of India |
| iv) Vishishtadvaita (doctrine of)                          | (     ) d) 19-04-2002                            |
| v) Srinatha  | (     ) e) The president of India                |

**2) Information :-**

-SS Page No 4

**(5 Marks)**

**Fill in the following Table with suitable information**

- 1) Name :
- 2) The name of your constituency :
- 3) The name of the M.L.A :
- 4) Indentify three other constituencies in your Distret :

5) Who all in your family voted in the last elections :

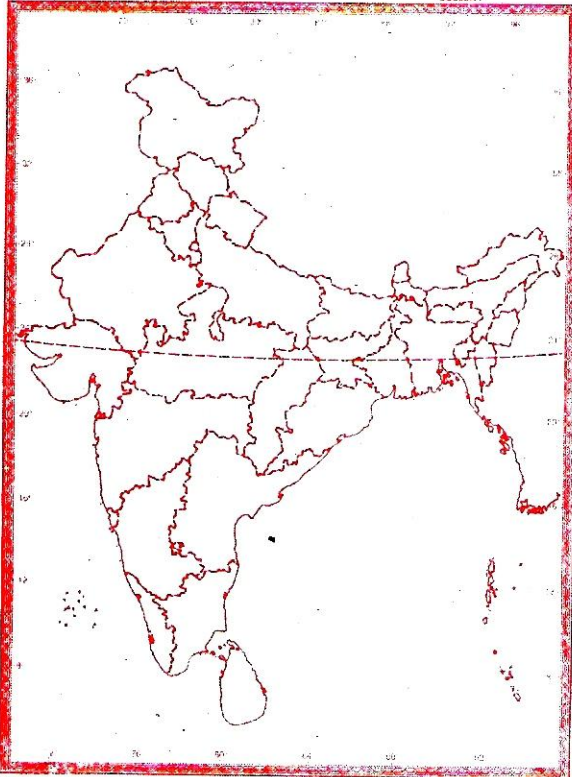
**3) Map Reading Skills :- (India - States Map)**

**5 Marks**

- 1) Shankara - Kerala
- 2) Annamacharya - Andhra Pradesh
- 3) Tukaram - Maharashtra
- 4) Basvanna - Karnataka
- 5) Chaitanya Mahaprabhu - West Bengal.

**INDIA - States**

Class :  
Section :



**4) Appriciation /Sencitivity**

**(5Marks)**

Can you name some Vaggeyakaras and their Keertanas ?



**Rajiv Vidya Mission (SSA)**  
**FORMATIVE ASSESSMENT - IV**

**Class VIII**

**Sub:- Social**

**Marks :50**

**Name of the Pupil:.....Roll No:.....Section:.....**

Participation and Responses 10 M	Written work	Project work 10 Marks	Slip Test 20 Marks	Total Marks obtained (50 M)	Grade
Marks					
Grade					

**I. Participation and Respones:- (10 Marks)**

*Teacher has to award marks by observing the involvement / Participation and respones of the students in the following Teaching Learning processes.*

**II. Written Work (10 Marks)**

*Teacher has to award marks by observing their note books, home work note books, Maps, Project works diaries, textual exercises, Portfolios, Collections / Written discourses to the wall magazine.*

**III. Project Work (10 Marks)**

*Write or define different forms of dances- and collect the pictures.*

**IV. Slip Test - (20 Marks)**

**1) Concept Understanding :- (5 Marks)**

i) The Separation of religion from state is .....

ii) Burrakatha is telugu art of ..... state.

iii) Dhimsa dance is perfomed by .....groups.

iv) Write two games that you know ?

v) Who believed that a sport was essential for a balance between the body and mind.

**2) Information Skills :- (5 Marks)**

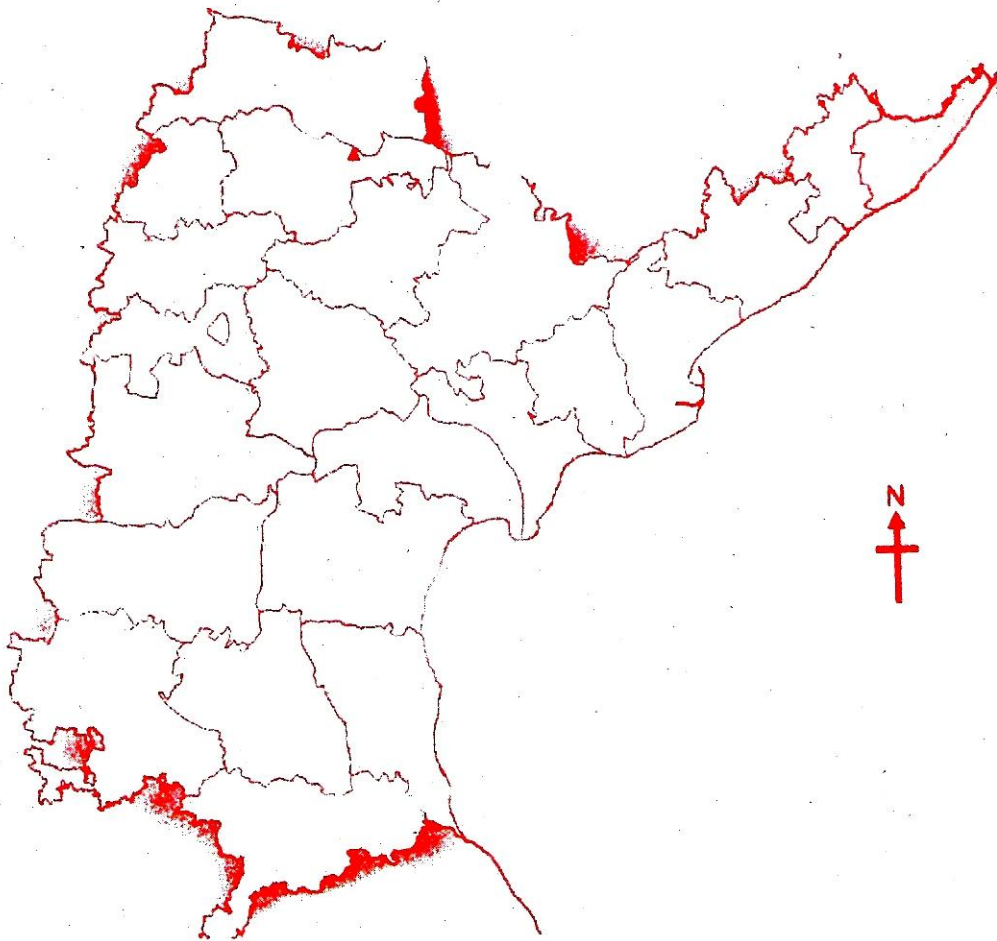
S.No.	Games	Sports	Write games of Boys	Write games of Girls	Which games do you like most

**3) Mapping Skills :-**

**VIII-Soc. 4 p (5 Marks)**

*The following places point out :*

- 1) Sreekakulam      2) Chittoor      3) Penna river 4) Krishna      5) Adilabad



**4) Appriciation/Sencitively :-**

**(5 Marks)**

*Write impact of drought.*

**Rajiv Vidya Mission (SSA)**  
**FORMATIVE ASSESSMENT - IV**

**Class :IX**

**Sub:- Social**

**Marks :50**

**Name of the Pupil:.....Roll No:.....Section:.....**

Participation and Responses 10 M	Written work	Project work 10 Marks	Slip Test 20 Marks	Total Marks obtained (50 M)	Grade
Marks					
Grade					

**I. Participation and Responses:- (10 Marks)**

*Teacher has to award marks by observing the involvement / Participation and responses of the students in the following Teaching Learning processes.*

**II. Written Work (10 Marks)**

*Teacher has to award marks by observing their note books, home work note books, Maps, Project works diaries, textual exercises, Portfolios, Collections / Written discourses to the wall magazine.*

**III. Project Work (10 Marks)**

*Visit your nearest Bank and collect data about Loans, Deposits, Different types of accounts, ATM and Credit Cards*

**IV. Slip Test - (20 Marks)**

**1) Concept Understanding :- (5 Marks)**

- i) B.P.O stands for .....
- ii) ..... accepts deposits and pay an interest rate on the deposits.
- iii) Libya was colonised by .....
- iv) ..... is the capital city of Belgium.
- v) Fundamental rights find a place in part .....of the constitution of India.
- vi) The dowry prohibition act was passed in the year .....
- vii) Business Management ( ) a) Accountant
- viii) Bills and payments ( ) b) Bank
- ix) Transport ( ) c) Business Man
- x) Financial Matters ( ) d) Driver



**2) Information Skills :- (5 Marks)** Page No 4 IX-SS

*In 1988, a major protest against the army rule broke out in Myanmar and was brutally suppressed. A new military council took over in the following year promising for elections. It was around the time that Aung San Sun Kyi began to fight for reforms in Burma. The rulers declared elections in 1990 and new party National League for Democracy (NLD) led by SuU Kyi won majority (80%) of seats even though SuU Kyi was in prison.*

*Study the given para graph and answer to below questions.*

- 1) *When was the protest occurred in Myanmar ?*
- 2) *Who is the new name of Burma ?*
- 3) *In 1990's election, who got the highest majority ?*
- 4) *Expand the NLD ?*
- 5) *How much percentage Aung San Sun Kyo got in elections ?*

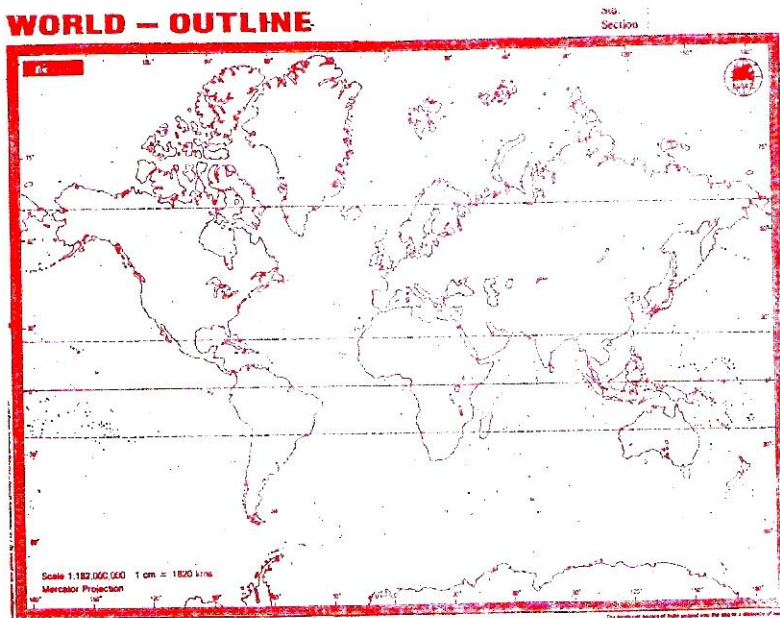
**3) Mapping Skills :-**

**(5Marks)**

Point out given countries on the World Map.

- 1) Myanmar 2) Libya 3) South Africa 4) Argentina 5) England

**WORLD – OUTLINE**



**4) Appreciation /Sensitivity**

**(5Marks)**

**(Write the answer inner blank pages)**

Election process is very important in Democracy ?

How can you say ? Explain ?