

R - 26

DISTRICT COMMON EXAMINATION BOARD
QUARTERLY EXAMINATIONS - 2015-16
SOCIAL STUDIES
(Telugu Medium)
PART - A

Class : IX]

(Max. Marks : 70)

[Time : 2 Hrs.

Section - I (Marks : 20)

- మాచనలు : 1) ఈ క్రింది వానిలో ప్రతి గ్రూపు నుండి రెండు ప్రశ్నలకు తగ్గకుండా మొత్తం ఐదు ప్రశ్నలకు సమాధానములు వ్రాయుము.
- 2) ప్రతి ప్రశ్నకు 4 మార్కులు.

Group - A

1. క్రింది విషయాన్ని చదివి, ఆర్థం చేసుకొని సమాధానం వ్రాయండి.
ప్రపంచాన్ని గ్రీనిచ్ మెరిడియన్ కి తూర్పు పడమరలుగా కలిపి మొత్తం 24 కాల మండలాలుగా విభజించారు. ఒక్కొక్క కాల మండలం 15° రేఖాంశాల మేర ఉంటుంది.
- ఎ) ఒక కాల మండలానికి దాని ప్రక్కనే గల కాల మండలానికి సమయంలో గల తేడా ఎంత?
- బి) గ్రీనిచ్ మెరిడియన్ ఏ నగరం గుండా వెళుతుంది?
2. వివిధ అక్షాంశాలను సూచించే భూమి యొక్క నమూనా చిత్రం గీయండి?
3. భూమిపై గల ఆవరణాలు ఎన్ని? అవి ఏవి?
4. సముద్రపు నీరు ఉప్పుగా ఉండటానికి కారణాలు ఏమిటి?

Group - B


5. మధ్యతరగతి అంటే ఎవరు? అది యూరప్ లో ఎలా ఏర్పడింది?
6. మనం ప్రస్తుతం అనుభవిస్తున్న ప్రాథమిక హక్కుల మూలాలు ఏవి? ఫ్రెంచి విప్లవంలో ఉన్నాయో? పేర్కొనండి.
7. 1500-1800 మధ్యకాలంలో మహిళలు గ్రీకు, రోమన్ పుస్తకాలు చదివినందువలన ఏమి ప్రయోజనం పొందారు?

[Turn Over

PRAKASAM

8. ప్రకృత ఉన్న పట్టిక పుస్తకాల ముద్రణలో వృద్ధి గురించి తెలియజేస్తుంది. దాని గురించి మీరు ఏమి చెప్పగలరు?

1450-1800 మధ్య కాలంలో యూరప్ లో ప్రచురితమైన పుస్తకాలు



Section - II (Marks : 8)

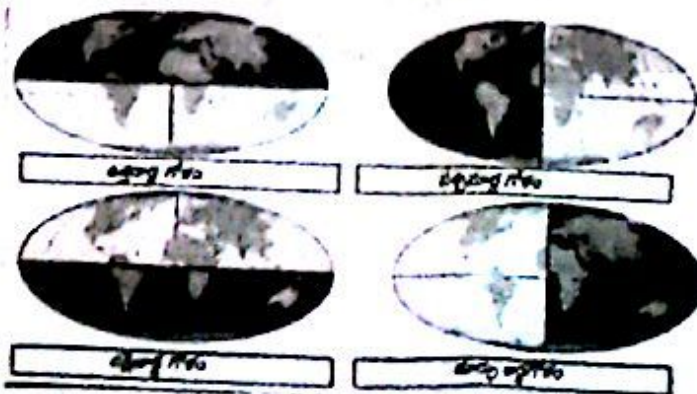
- సూచనలు : 1) ఈ క్రింది వానిలో ఏవైనా నాలుగు ప్రశ్నలకు సమాధానమును వ్రాయుము.
2) ప్రతి ప్రశ్నకు 2 మార్కులు.
9. "పాంథర్స్" అంటే ఏమిటి?
 10. "రక్తరహిత విప్లవం" ఏ దేశంలో జరిగింది?
 11. టీక్లు ఎలా ఏర్పడ్డాయి?
 12. భూకేంద్ర మండలంలో గల లోహాలు ఏవి?
 13. 'గణతంత్రం' అంటే ఏమిటి?
 14. ఆమెరికాను అన్వేషించడంలో ప్రముఖ పాత్ర వహించిన ఇద్దరు నావికులు ఎవరు?

Section - III (Marks : 32)

- సూచనలు : 1) ఈ క్రింది వానిలో ప్రతి గ్రూపు నుండి రెండు ప్రశ్నలకు తగ్గకుండా మొత్తం నాలుగు ప్రశ్నలకు సమాధానములు వ్రాయుము.
2) ప్రతి ప్రశ్నకు 8 మార్కులు.

Group - A

15.



[Contd...3

పైన ఇవ్వబడిన పటాల ఆధారంగా దిగువ పట్టికను నింపండి.

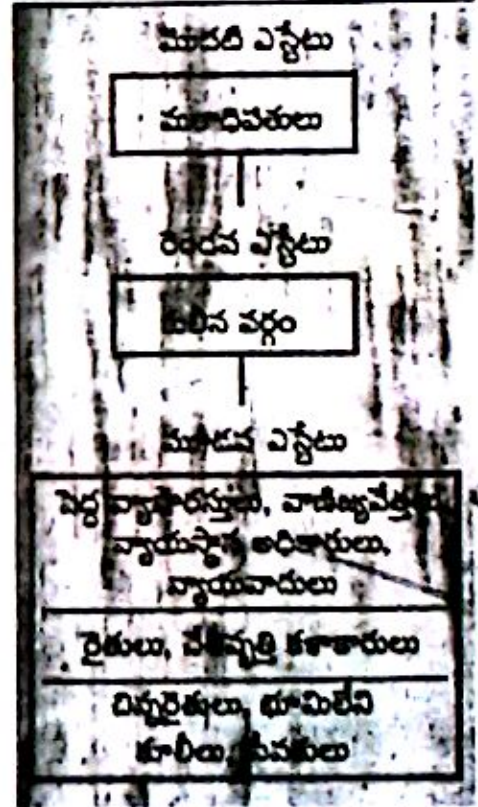
భూభాగం	
ఉత్తరార్ధగోళం	
పశ్చిమార్ధ గోళం	
దక్షిణార్ధ గోళం	
తూర్పు అర్ధ గోళం	

16. వరద మైదానాలలో ఉండడంలో ప్రమాదాలు ఏమిటి?
17. మానవ మనుగడ మహాసముద్రాలలో ఏ విధంగా ముడిపడి ఉంది?
18. జలచక్రంలో గల వివిధ దశలను చిత్రం సహాయంతో వివరించండి.

Group - B

19. ఇవ్వబడిన ప్లో చార్టు ఆధారంగా క్రింది ప్రశ్నలకు జవాబులు వ్రాయుము.

- ఎ) ఫ్రెంచి నమాజంలో మొదటి ఎస్టేట్లో ఉన్నవారు?
- బి) ఫ్రెంచి నమాజంలో పన్నులు చెల్లించేవారు ఎవరు?
- సి) రాజు, వారి బంధువులు ఉన్న ఎస్టేట్ ఏది?
- డి) రెండవ ఎస్టేట్లో గలవారు ఎవరు?




[Turn Over

20. 15వ శతాబ్దంలో ముద్రణ యంత్రం కనుగొన్న తరువాత యూరప్ లో వచ్చిన మార్పులేవి?

21. క్రింది పటంలో ఖాళీలను దిగువ ఇవ్వబడిన అనువైన పదాలతో నింపండి. (ఫ్రెంచి విప్లవ కాలం దృష్ట్యా)

ఎ) ఆహారం కోసం ఆల్లర్లు బి) ఆహార ధాన్యాల కొరత

సి) మరణాల సంఖ్య పెరగటం డి) పెరుగుతున్న ఆహార ధరలు ఇ) చిక్కిన శరీరాలు



22. ఎ) పట్టణాల అభివృద్ధికి వ్యాపారం ఎలా దోహదం చేస్తుంది?

బి) పట్టణాల కంటే పట్టణాలలో కొత్త ఆలోచనల గురించి తెలుసుకొనటానికి, కొత్త విషయాలు ప్రయత్నించి చూడటానికి ఎక్కువ అవకాశాలు ఉన్నాయా? ఎలాగో తెలవండి?

Section - IV (Marks : 10)

మాచనలు : 1) ఈ క్రింది వానిలో ఏదేని ఒక ప్రశ్నకు సమాధానం వ్రాయండి.

2) ప్రశ్నకు 10 మార్కులు.

23. పేరికల్పించిన ప్రపంచ పటంలో క్రింది వాటిని గుర్తించండి.

- | | | | |
|-----------------------|-----------------|--------------------------|--------------|
| ఎ) 1. లోమ్ | 2. బండియా | 3. భూమధ్య రేఖ | 4. ఇంగ్లాండ్ |
| 5. ఉత్తర అమెరికా | 6. రష్యా | 7. అట్లాంటిక్ మహాసముద్రం | |
| 8. పసిఫిక్ మహాసముద్రం | 9. గ్రీన్ లాండ్ | 10. గుడిహాప్ అగ్రం | |

(లేదా)

- | | | | |
|-------------------|-------------------------|---------------------|------------|
| బి) 1. బటరీ | 2. డిల్లీ | 3. కర్కట రేఖ | 4. ఆఫ్రికా |
| 5. దక్షిణ అమెరికా | 6. చైనా | 7. హిందూ మహాసముద్రం | |
| 8. ఆస్ట్రేలియా | 9. ఆర్కిటిక్ మహాసముద్రం | 10. కారికట్ | |



Regd. No.

Marks :

R - 26 A

DISTRICT COMMON EXAMINATION BOARD
QUARTERLY EXAMINATIONS - 2015-16

SOCIAL STUDIES

(Telugu Medium)

PART - B

Class : IX]

(Max. Marks : 30)

[Time : ½ Hr.

1. ఈ క్రింది ప్రతి ప్రశ్నకు నాలుగు సమాధానాలు ఇవ్వబడినవి. వానిలో సరియైన సమాధానమును సూచించు అక్షరమును ఎదురుగానున్న బ్రాకెట్టు నందు గుర్తించుము. 20 x 1 = 20

1. "పాలిపోయిన నీలి చుక్క" గా పిలువబడుతున్న గ్రహం. (సి)

ఎ) బుధుడు బి) శుక్రుడు సి) భూమి డి) గురుడు

2. ఖండ చలన సిద్ధాంతమును ప్రతిపాదించిన శాస్త్రవేత్త (బి)

ఎ) ఐన్‌స్టీన్ బి) వెజ్‌నర్ సి) ఆరిస్టాటిల్ డి) కలామ్

3. గ్లోబులై నిలుపు, అడ్డగీతతో ఏర్పడిన గళ్ళను అంటారు. (ఎ)

ఎ) గ్రేడ్ బి) అక్షాంశం సి) రేఖాంశం డి) భూమధ్య రేఖ

4. భూమి స్థితి 1^o రేఖాంశం జరగడానికి పట్టే సమయం. (డి)

ఎ) 1 ని॥ బి) 2 ని॥ సి) 3 ని॥ డి) 4 ని॥

5. యురేషియా ఫలకాన్ని, ఇండియా ఫలకం నెట్టడం వలన ఏర్పడ్డాయి. (సి)

ఎ) గంగా మైదానం బి) ఆరావళి పర్వతాలు
సి) హిమాలయాలు డి) యూరప్ పర్వతాలు

6. 'బైనె గార్ట్' ఏ నది పైన గలదు? (బి)

ఎ) కృష్ణా బి) గోదావరి సి) వంశధార డి) పెన్నా

[Turn Over


7. 'డెల్టా' యొక్క ఆకారం. (డి)
 ఎ) చతురస్రం బి) దీర్ఘచతురస్రం సి) వృత్తం డి) త్రిభుజము
8. మహాసముద్రంలో కెల్లా పెద్దది (ఎ)
 ఎ) పసిఫిక్ బి) అట్లాంటిక్ సి) హిందూ డి) అంటార్కిటికా
9. మహాసముద్రాల సాధారణ లవడీయత (బి)
 ఎ) 20% బి) 35% సి) 30% డి) 40%
10. "పునరుజ్జీవనం" అనే పదం ఉపయోగించినవాడు. (డి)
 ఎ) ఎరాస్మస్ బి) మార్టిన్ లూథర్ సి) కాలిన్ డి) బక్ హర్ట్
11. "క్రొత్త నిబంధనలు" వీరి యొక్క పవిత్ర గ్రంథం. (డి)
 ఎ) హిందువులు బి) ముస్లింలు సి) క్రైస్తవులు డి) యూదులు
12. 'మోనాలిసా' చిత్రము గీసిన చిత్రకారుడు. (ఎ)
 ఎ) లియోనార్డ్ డావిన్చీ బి) మైఖెలెంజిలో
 సి) రాఫెల్ డి) డ్యూరర్
13. ముద్రణ యంత్రం కనుగొన్నవాడు. (ఎ)
 ఎ) జోహన్స్ గూటెన్ బర్గ్ బి) వెసాలియస్
 సి) డొనాటిల్లో డి) గెలిలియో
14. 'వాస్కోడగామా' భారత్ చేరిన సంవత్సరం (డి)
 ఎ) 1408 బి) 1468 సి) 1478 డి) 1498
15. 'గుడీర్స్ పార్లమెంట్' ఏ దేశానికి సంబంధించిన విషయం? (ఎ)
 ఎ) ఇంగ్లాండ్ బి) అమెరికా సి) ఫ్రాన్స్ డి) రష్యా

[Contd...3

16. 'థామస్ జెఫర్సన్' ఏ దేశ స్వాతంత్ర్యపు పోరాటంలో సంబంధం కలవాడు? (2)
 ఎ) ఇంగ్లాండ్ బి) ఆమెరికా సి) ఫ్రాన్స్ డి) రష్యా

17. 'ది సోషల్ కాంట్రాక్ట్' గ్రంథ రచయిత (ఎ)
 ఎ) రూసో బి) జాన్ లాక్ సి) మాంటెస్క్యూ డి) హాబ్స్ బామ్

18. ప్రస్తుతం ఫ్లారెన్స్, వెనిస్ మొ. నగరాలు లో కంవు. (సి)
 ఎ) ఫ్రాన్స్ బి) టర్కీ సి) ఇటలీ డి) ఇంగ్లాండ్

19.  ప్రక్క పటంలో 'A' గా గుర్తించబడినది (ఎ)

ఎ) భూమధ్య రేఖ బి) మకర రేఖ సి) దక్షిణ ధ్రువము డి) కర్కట రేఖ

20. ఆంధ్రప్రదేశ్ రాష్ట్ర మానవ వనరుల శాఖా మంత్రి (సి)
 ఎ) శ్రీ ఎన్. చంద్రబాబు నాయుడు బి) శ్రీ శిర్డా రాఘవరావు
 సి) శ్రీ గంటా శ్రీనివాసరావు డి) శ్రీ నై రామకృష్ణుడు

II. ఈ క్రింది భాగలను పూరించండి.

5 x 1 = 5

21. "పాంజియా" అనే గ్రీకు పదానికి అర్థం మొలక భంగం

22. భారతదేశ ప్రామాణిక కాల రేఖ $82\frac{1}{2}^{\circ}$ ఉత్తర-క్షిణం

23. వాతావరణంలోని నీరు భూమిని చేరడాన్ని ఉపశోషణ అంటారు.

24. చర్మి విడిచే పప్పు బిల్

25. 18వ శతాబ్దపు ఫ్రెంచి సమాజంలో 3 రకాలైన ఎస్టేటులున్నాయి.

[Contd.. 4

III. ఈ క్రింది వానిని జతపరచండి.

5 x 1 = 5

Group - A

26. హిమాలయాలు (c)
 27. ఆసియా ఖండం (b)
 28. కోగ్ జలపాతము (a)
 29. ఛార్లెస్ - I (f)
 30. లూయీ 16 (e)

Group - B

- a) తృతీయ శ్రేణి భూస్వరూపాలు
 b) ప్రథమ శ్రేణి భూస్వరూపాలు
 c) ద్వితీయ శ్రేణి భూస్వరూపాలు
 d) శరావతి
 e) ఫ్రాన్స్
 f) ఇంగ్లాండ్
 g) అమెరికా

PRAKASAM