

V - 6

సర్వశిక్షా అభియాన్ విశాఖపట్నం జిల్లా ఆంధ్రప్రదేశ్
సంగ్రహణాత్మక మదింపు - 1 - 2015 - 2016
సాంఘిక శాస్త్రము

కాలం : 80]

(మార్కులు : 100)

[Time : 2½ Hrs.

విద్యా ప్రమాణాలు	విషయ వగాహన	పాఠ్యాంశాన్ని చదివి అర్థం చేసుకొనే వ్యాఖ్యానించట	సమాచార నైపుణ్యాలు	సమకాలీన అంశాలపై ప్రతిస్పందన ప్రశ్నించడం	వట నైపుణ్యం	ప్రశంస సున్నితత్వం	మొత్తం
ప్రశ్నల సంఖ్య	1 - 23	24	25, 26	27	28, 29	30	30
కేటాయించిన మార్కులు	40	10	15	10	15	10	100
పొందిన మార్కులు							
గ్రేడు							

Name of the student : Number :

I. విషయావగాహన : (40 మార్కులు)

ఎ) ఈ క్రింది ప్రశ్నలలో ఏవైనా రెండింటికి జవాబులు రాయండి. $2 \times 10 = 20$

- ఆదిమానవుడు జంతువులను మచ్చిక చేసుకోవడం ద్వారా వారి జీవితాలు సులభతరమైనవని ఎట్లు చెప్పగలవు ?
- మైదానాలలోని గొట్టపు బావులను, పీతభూములలో గొట్టపు బావులతో పోల్చండి ?
- నాటి మహాజనపదాల కాలంలో గ్రామ నిర్వహణకు, నేటి గ్రామాల నిర్వహణకు మధ్యగల తేడాలను తెల్పండి ?
- మైదాన ప్రాంతంలో ముఖ్యంగా కృష్ణా దెల్టా ప్రాంతంలో జనసాంద్రత ఎక్కువ. దీనికి గల కారణాలు రాయండి.

బి) ఏవైనా రెండు ప్రశ్నలకు జవాబులివ్వండి. $2 \times 5 = 10$

- మానచిత్రాల తయారీలో చిహ్నాల ఆవశ్యకతను వివరించండి.
- అక్షాంశాలు, రేఖాంశాలు గూర్చి రాయండి.
- పెనుమకూరు గ్రామాన్ని మీ గ్రామంతో పోల్చి ఎలాంటి మార్పులు చోటుచేసుకుంటున్నాయో వివరించండి ?
- గణ అండ్ ఏమిటి ? రాజులు పరిపాలించిన రాజ్యాలకు, వీటికి గల తేడాలు ఏమిటి?

[Turn Over





సి) కింది ప్రశ్నలకు సరి అయిన సమాధానములనిమ్ము

5X1= 5

9. గోండు తెగలలో గ్రామ పెద్దను ఏమందురు ?
10. అర్థశాస్త్రమును రాసినది ఎవరు ?
11. ఖండాలన్నింటిలో చిన్న ఖండం ఏది ?
12. మన జిల్లాలో ప్రవహించే రెండు ముఖ్యమైన నదులు ఏవి ?
13. మహాజనపదాలలో బలమైన రాజ్యం ఏది

డి) ఈ క్రింది వానిలో సరియైన సమాధానమును గుర్తించుము.

10X1/2 = 5

14. ఈ చిహ్నం దేనిని సూచిస్తుంది ? ()
ఎ) తారురోడ్డు బి) మట్టిరోడ్డు సి) చెరువు డి) రైలు మార్గం
15. అక్షాంశాలన్నింటిలో పెద్దది ఏది ? ()
ఎ) భూమధ్య రేఖ బి) కర్కటక రేఖ సి) మకర రేఖ డి) గ్రీన్‌చ్ రేఖ
16. భారతదేశం ఏ ఖండంలో ఉంది ()
ఎ) ఆఫ్రికా బి) ఉత్తర అమెరికా సి) ఆస్ట్రేలియా డి) ఆసియా
17. దీనిని కనుగొనడంతో ఆదిమానవుడి జీవితంలో గొప్ప మార్పు చోటుచేసుకుంది ()
ఎ) వస్త్రము బి) నిప్పు సి) ఆహారము డి) నివాసము
18. కింది వానిలో డెల్టా ఆకారాన్ని గుర్తించండి ()
ఎ)  బి)  సి)  డి) 
19. ఆంధ్రప్రదేశ్ రాష్ట్రంలో ప్రస్తుతం ఎన్ని జిల్లాలు కలవు ? ()
ఎ) 10 బి) 11 సి) 12 డి) 13
20. ఇటీవల ఏ నది పుష్కరాలు ఘనంగా జరిగాయి ()
ఎ) కావేరి నది బి) కృష్ణా నది సి) మహానది డి) గోదావరి నది
21. ఆంధ్రప్రదేశ్ లో గిరిజన తెగలపై అధ్యయనం చేసిన పరిశోధకుడు ()
ఎ) వాస్కోడిగామా బి) రోవెర్ట్ రాస్
సి) హైమన్ డార్టీ డి) కొలంబస్
22. 'కళింగ రాజ్యం' యొక్క ప్రస్తుతం పేరు ()
ఎ) ఒడిశా బి) తమిళనాడు సి) గోవా డి) ఆంధ్రప్రదేశ్
23. చిరుధాన్యాలలో కానిది ()
ఎ) రాగులు బి) గోధుమ సి) కొర్రలు డి) సజ్జలు

[Contd. 3rd

26. శాతవాహనుల కాలం నాటి శిలాశాసనంగా భావిస్తున్న దీనిని చదవండి.

శాతవాహనుల రాజు శ్రీపులో మావి 2వ సంవత్సరంలో పాలనలో అతడి మహాసేనాధిపతి స్కందనాగ జనపదంలోని శాతవాహన జిల్లాలో, కుమారదత్త అధిపతిగా ఉన్న వేపుర గ్రామంలో కాంత తెగకు చెందిన సమ్మ అనే గహపతి ఈ చెరువును తవ్వించాడు.

క్రింది ప్రశ్నలకు జవాబులివ్వండి.

5X1=5

1. సై శిలాశాసనం ఎవరి కాలం నాటిది ?
2. వేపుర గ్రామంలో ఏ తెగ నివసించేది ?
3. ఆ తెగకు అధిపతి ఎవరు ?
4. వేపుర గ్రామం ఉన్న జనపదానికి ఎవరు నాయకత్వం వహిస్తున్నారు ?
5. 'గహపతి సమ్మ' చెరువును ఏ ప్రయోజనాల కోసం త్రవ్వించి ఉండవచ్చు ?

IV. సమకాలీన అంశాలపై ప్రతి స్పందన - ప్రశ్నించడం : (10 మార్కులు)

క్రింది వానిలో ఒక ప్రశ్నకు సమాధానమిమ్ము

27. ప్రస్తుతం వర్షాభావ పరిస్థితులలో కరువు సంభవిస్తే ఎటువంటి జాగ్రత్తలు తీసుకోవాలి
(లేదా)

మన రాష్ట్రంలో రైతుల పరిస్థితి మెరుగు పరచడానికి కొన్ని సూచనలను రాయండి.

V. పట నైపుణ్యాలు : (10 మార్కులు)

28. మీ పాఠశాల చిత్తు పటాన్ని గీయండి.

29. మికివ్వబడిన ప్రపంచ పటంలో క్రింది వాటిని గుర్తించండి.

1. శ్రీలంక 2. ఆస్ట్రేలియా 3. ఆసియా 4. పసిఫిక్ మహాసముద్రం 5. ఉత్తరమెరికా

VI. ప్రశంస సున్నితత్వము : (10 మార్కులు)

ఏదేని ఒక ప్రశ్నకు జవాబు వ్రాయండి.

30. కళింగ యుద్ధానంతర పరిణామాలు ప్రజల జీవన విధానాలలో విప్లవాత్మకమైన మార్పులు చోటు చేసుకున్నాయని ఒక చక్రవర్తి జీవిత చరిత్రను ఉదాహరణగా తీసుకొని ఎట్లా చెప్పగలవు ?

(లేదా)

చేతి వృత్తుల వారికి ప్రభుత్వం సుంచి అందే సహాయ సహకారాలను ప్రశంసించండి

